

令和 2 年 度

一関修紅高等学校一般入学試験問題

第 3 時 限

(1月23日 11:00～11:50)

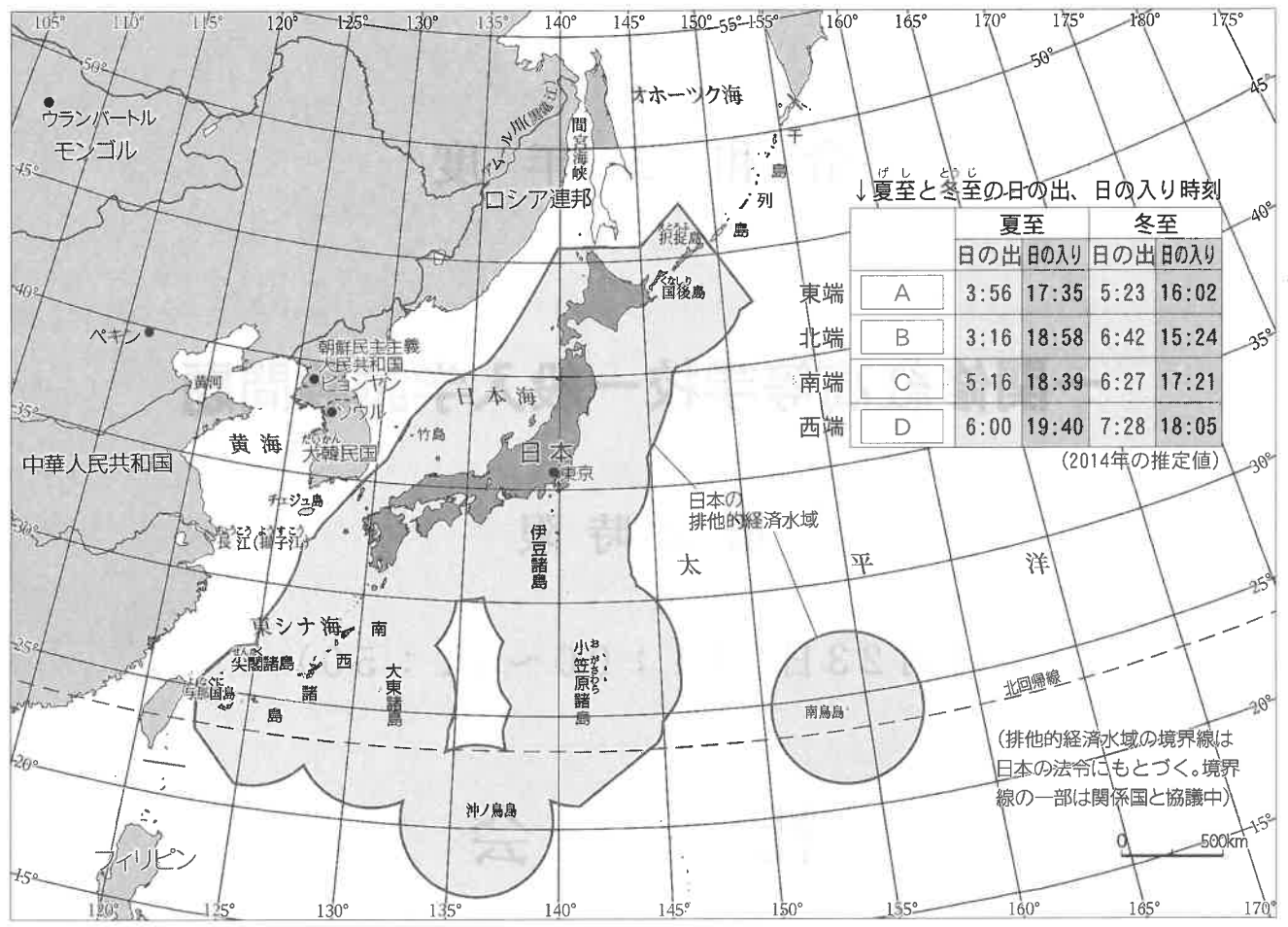
社 会

(注 意)

- 1 「始めなさい。」の指示があるまで、問題を見てはいけません。
- 2 答えは、必ず解答用紙の「答」の欄らんに記入しなさい。問題用紙に書いても無効です。
- 3 答えは、記号・数字・ことばなどで書くようになっていますから、問題をよく読んで、定められたとおりに書きなさい。
- 4 書き誤りをしたときは、きれいに消してから新しい答えを書きなさい。はっきりしない答えを書いた場合は、誤りとされます。
- 5 解答用紙の※印の欄（得点の欄）には記入してはいけません。
- 6 時間内に書き終わっても、その場に着席していなさい。
- 7 「やめなさい。」の指示があつたら、直ただちに書くのをやめ、筆記具を置きなさい。
- 8 問題用紙は、表紙あきを含めないで10ページで、問題は7題です。

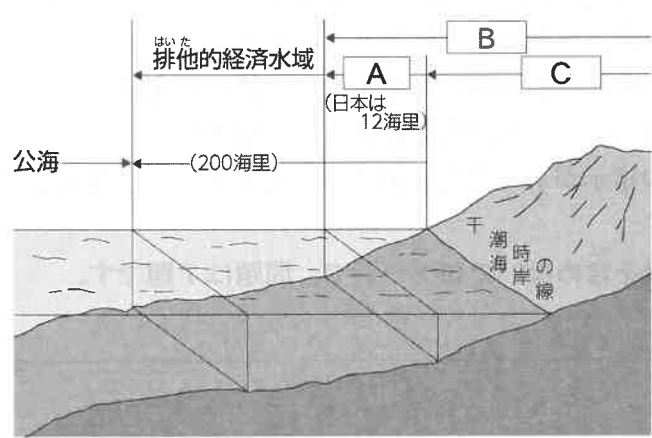
1

日本の領土について、あとの(1)、(2)の問いに答えなさい。



(1) 上の図は、日本の領域と排他的経済水域を示す地図と「夏至と冬至の日の出、日の入り時刻」をあらわした表です。この表の **A** ~ **D** には、日本の領域の最東端、最西端、最南端、最北端の島の名前が入ります。**A** ~ **D** にあてはまる島は何ですか。図中よりあてはまる島を選び、それぞれ、ことばで書きなさい。(3点×4)

(2) 下の図は、国の領域についてあらわしたものです。図中の **A** ~ **C** にあてはまる語句は何ですか。それぞれ、ことばで書きなさい。(3点×3)



2

人類の進化について、あとの(1)～(3)の問いに答えなさい。

地球上に初めて人類が現れたのは、今から700～600万年前のことと考えられている。人類は他の動物とは異なり、道具を使用して、狩りをしたり、木の実などを採るようになった。

- (1) 人類は、次第に知能が発達して、より複雑な道具を作り、使用することができるようになり、現在のように進化してきました。人類が他の動物より知能が発達したのはなぜですか。次の語群にある4つの語句をすべて使って、短い文で書きなさい。(4点)

語 群：脳、直立二足歩行、前足、道具

- (2) 今から1万年以上前には、石を打ち欠いてつくられた打製石器(右の写真)を使用して、狩りや採集を行っていました。この時代を何といいますか。漢字3字で書きなさい。

(2点)



- (3) 土器の使用が始まったのは、今から約1万年前です。ほぼ同じ時期に石の表面を磨いた石器の使用も始まりました。次の①、②の問いに答えなさい。

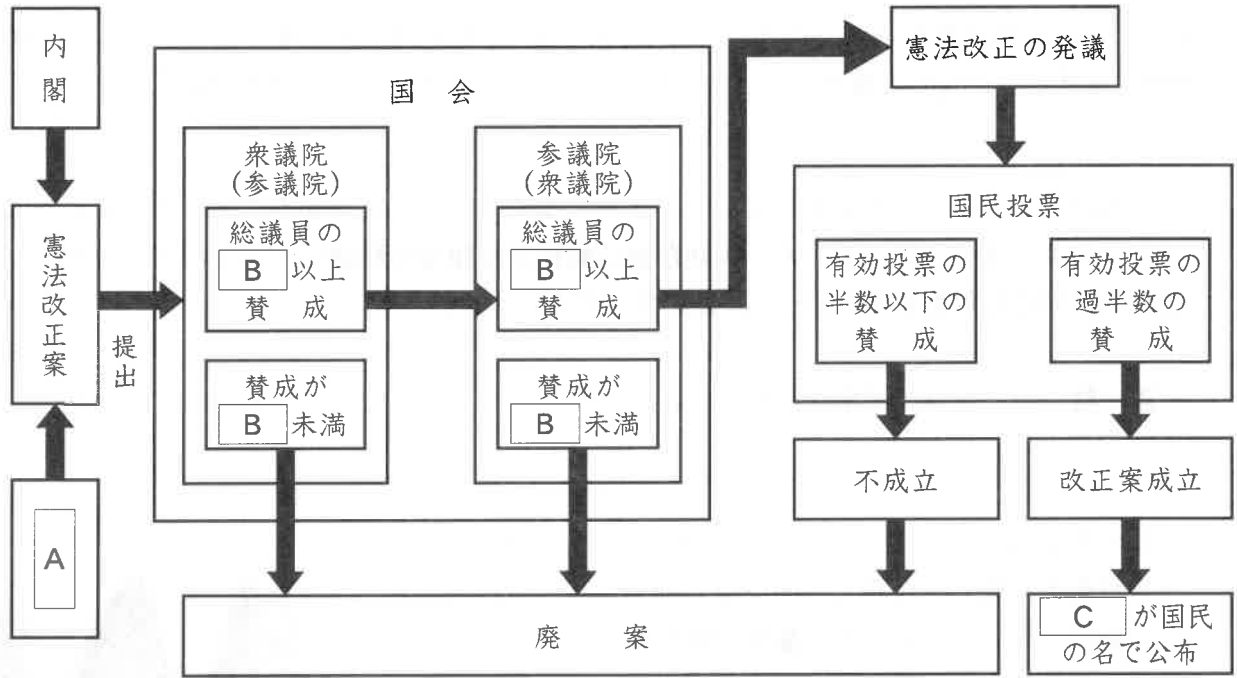
- ① 土器の使用により、食生活に変化があらわれました。土器をどのように使用したのか、短い文で書きなさい。(4点)

- ② 石の表面を磨いた石器(右の写真)を何といいますか。漢字4字で書きなさい。(2点)



3

日本国憲法について、あとの(1)～(3)の問いに答えなさい。



(1) 上の図は、日本の憲法改正の手続きについて示しています。次の①～③の問いに答えなさい。
(2点×3)

① 図中の **A** にあてはまる語句は何ですか。次のア～エから一つ選び、記号で書きなさい。

- ア 国会議員 イ 天皇 ウ 大統領 エ 選挙管理委員会

② 図中の **B** にあてはまる語句は何ですか。次のア～エから一つ選び、記号で書きなさい。

- ア 過半数 イ 2分の1 ウ 3分の1 エ 3分の2

③ 図中の **C** にあてはまる語句は何ですか。次のア～エから一つ選び、記号で書きなさい。

- ア 衆議院議長 イ 参議院議長 ウ 天皇 エ 内閣総理大臣

(2) 日本国憲法の第7条で、「天皇は、内閣の助言と承認により、国民のために、左の国事に関する行為を行う。」と記されています。天皇の国事行為とは何ですか。次のア～エから、あてはまらないものを一つ選び、記号で書きなさい。(2点)

- ア 国会を召集すること
- イ 内閣総理大臣を指名すること
- ウ 国会議員の総選挙の施行を公示すること
- エ 衆議院を解散すること

(3) 大日本帝国憲法(明治憲法)のもとでは、主権は天皇にあるとされていましたが、日本国憲法の制定とともに、主権者は国民になりました。あとの文は日本国憲法第1条の条文です。条文中の X ~ Z にあてはまる語句は何ですか。正しい組み合わせを、次のア～エから一つ選び、記号で書きなさい。(2点)

天皇は、日本国の X であり日本国民統合の X であって、この地位は、 Y の存する日本国民の Z に基づく。

	X	Y	Z
ア	総意	主権	象徴
イ	象徴	主権	総意
ウ	主権	象徴	総意
エ	象徴	総意	主権

4

江戸幕府について、あとの(1)～(6)の問いに答えなさい。

④1603年、**A**は朝廷から征夷大將軍に任じられ、江戸に幕府を開いた。これを江戸幕府とよび、これから明治維新までの260年余りを江戸時代という。

江戸幕府は、1615年に**B**という法律を定め、大名の心構えを示すとともに、城の新築や修理、大名間の結婚などに規制を設けて統制した。1635年には、⑥第3代將軍が**B**を改定し、**C**の制度を加えた。**C**で大名は、妻子を江戸に住まわせ、1年おきに領地と江戸のあいだを往復することになった。大名は、江戸での生活費や領地との往復の費用で経済的負担が大きくなった。その他にも、幕府から命じられる江戸城の修築や河川の改修工事費用なども藩の負担であり、藩の財政は苦しい状況であった。

(1) 文中の**A**にあてはまる人物は誰ですか。次のア～エから一つ選び、記号で書きなさい。(2点)

ア 徳川慶喜 イ 徳川吉宗 ウ 徳川家斉 エ 徳川家康

(2) 文中の**B**にあてはまる語句は何ですか。次のア～エから一つ選び、記号で書きなさい。(2点)

ア 武家諸法度 イ 公事方御定書 ウ 禁中並公家諸法度 エ 禁教令

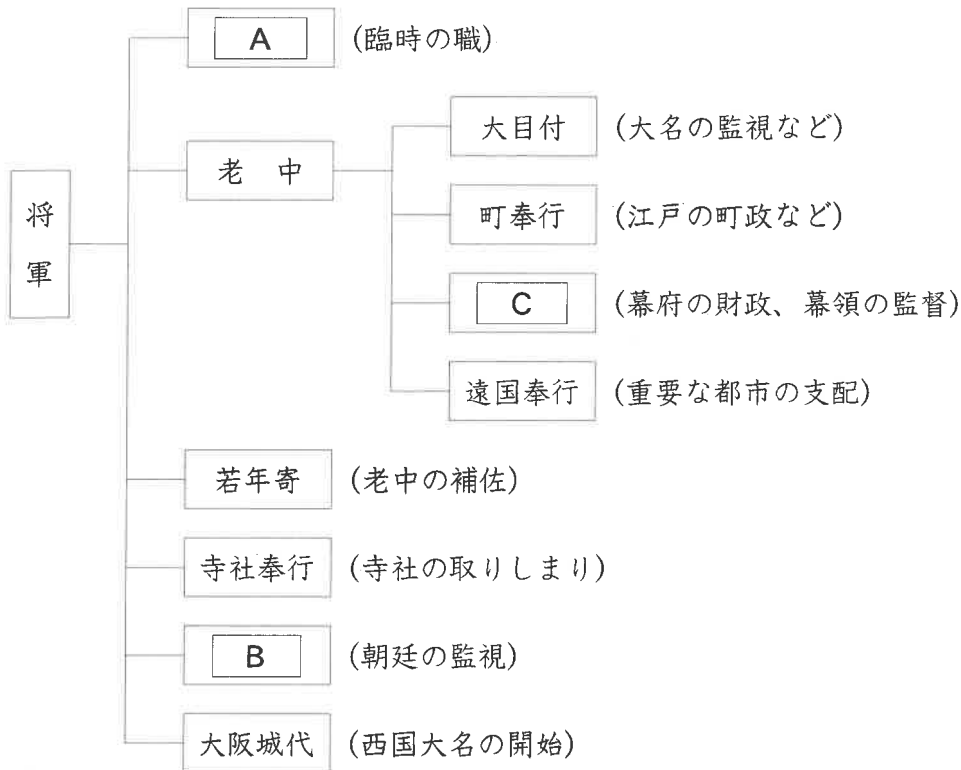
(3) 文中の**C**にあてはまる語句は何ですか。ことばで書きなさい。(2点)

(4) 下線部④について、**A**は、征夷大將軍就任後2年で子の秀忠に將軍職を譲り、大御所と称して政治の実権を握りました。**A**が2年で秀忠に將軍職を譲ったのはなぜですか。次の語群にある3つの語句をすべて使って、短い文で書きなさい。(4点)

語 群：受け継ぐ、將軍職、徳川氏

(5) 下線部⑥について、この第3代將軍は誰ですか。その氏名を漢字で書きなさい。(2点)

(6) 下の図は、江戸幕府の仕組みについて示しています。図中の **A** ~ **C** にあてはまる語句は何ですか。正しい組み合わせを、次のア~エから一つ選び、記号で書きなさい。(2点)



	A	B	C
ア	京都所司代	大老	勘定奉行
イ	大老	勘定奉行	京都所司代
ウ	勘定奉行	大老	京都所司代
エ	大老	京都所司代	勘定奉行

5

日本の経済について、あとの(1)～(3)の問いに答えなさい。

世界の国々には、国全体の立場から金融活動を行う銀行として、政府から独立した **A** 銀行がある。日本の **A** 銀行は **B** 銀行であり、「発券銀行」として銀行券（紙幣）を発行している。また、「銀行の銀行」として③民間金融機関を相手に預金の受け入れや資金の貸し出しを行い、「**C** の銀行」として政府の代わりに⑥税金などの管理も行っている。

(1) 文中の **A** ～ **C** にあてはまる語句は何ですか。正しい組み合わせを、次のア～エから一つ選び、記号で書きなさい。(2点)

	A	B	C
ア	中央	日本	政府
イ	日本	中央	政府
ウ	中央	政府	日本
エ	政府	日本	中央

(2) 下線部③について、民間金融機関にあてはまらないものは何ですか。次のア～エから一つ選び、記号で書きなさい。(2点)

ア 農業協同組合 イ 労働金庫 ウ 日本政策銀行 エ 生命保険会社

(3) 下線部⑥について、国が集める税金を国税といいます。国税について、①、②の問いに答えなさい。

① 国税にあてはまらないものは何ですか。次のア～エから一つ選び、記号で書きなさい。(2点)

ア 法人税 イ 自動車税 ウ 相続税 エ 贈与税

② 所得税などは累進課税制度となっています。累進課税とはどのような課税方法ですか。次の語群にある2つの語句をすべて使って、短い文で書きなさい。(4点)

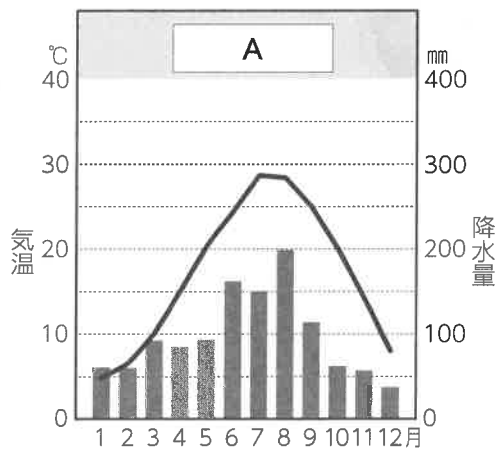
語 群：税率、所得

6

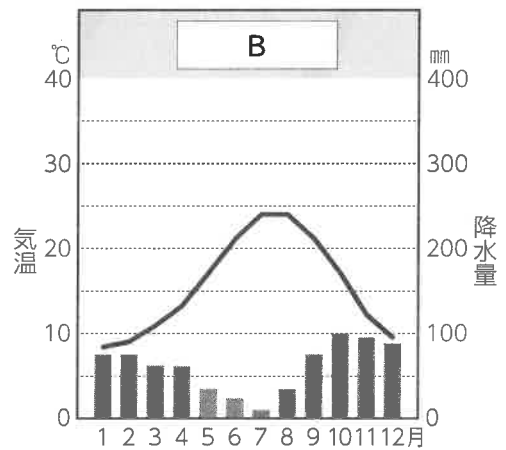
気候区分について、あとの(1)、(2)の問いに答えなさい。

世界の植物の生育(植生)は、赤道(低緯度)から極地方(高緯度)に向かい次々と変化する。気候が違くと地表をおおう植生も変化するということである。世界の気候は、この植生をもとにして区分されている。

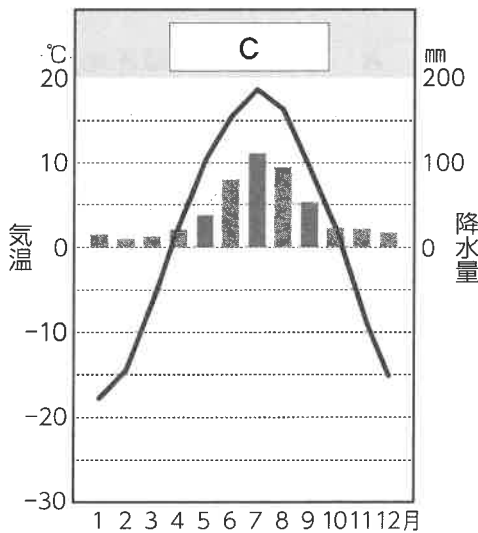
(1) 次の **A** ~ **D** は気温と降水量をあらわすグラフです。 **A** ~ **D** は、何という気候をあらわすグラフですか。適する気候をア~エから、一つずつ選び、記号で書きなさい。(3点×4)



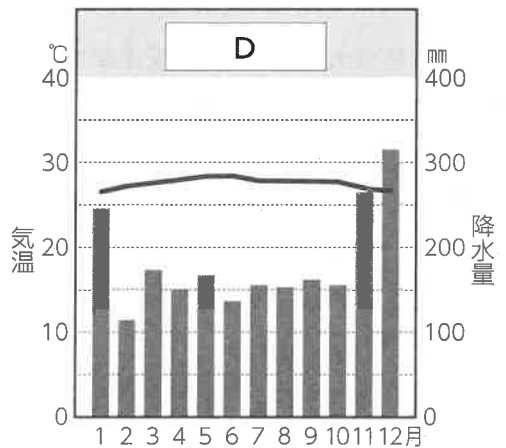
シヤンハイ(標高9 m)
年平均気温 17.1°C
年降水量 1157.0mm



ローマ(標高4 m)
年平均気温 15.6°C
年降水量 716.9mm



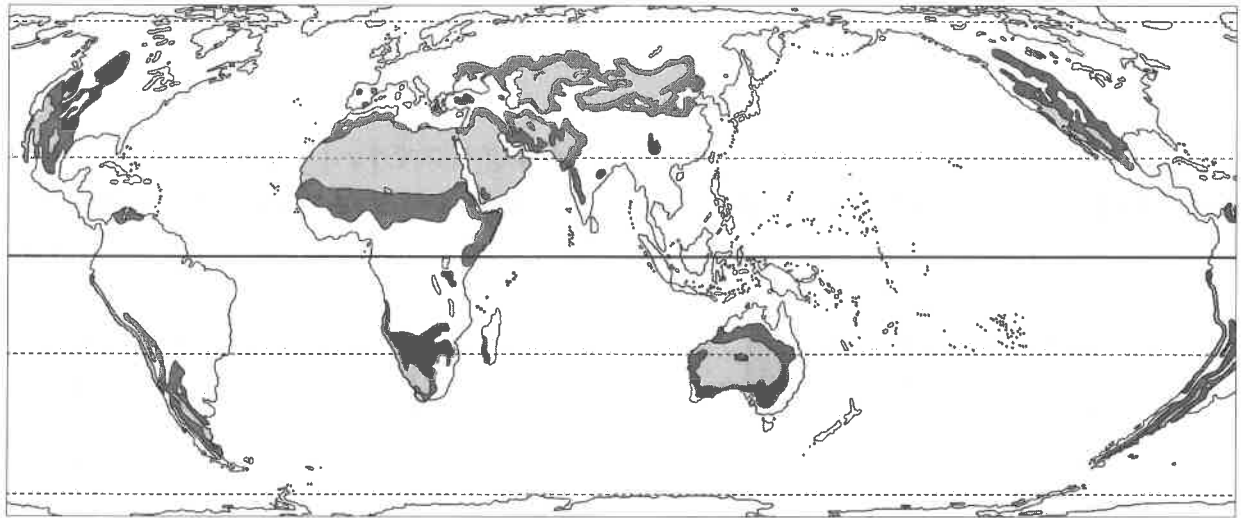
イルクーツク(標高469 m)
年平均気温 0.9°C
年降水量 478.5mm



シンガポール(標高5 m)
年平均気温 27.6°C
年降水量 2199.0mm

- ア 熱帯雨林気候 イ 地中海性気候 ウ 温暖湿潤気候 エ 冷帯気候

(2) 下の図は、乾燥帯の分布をあらわしている図です。図中の **A** と **B** で色分けされている気候は、何という気候ですか。それぞれ、ことばで書きなさい。(3点×2)



7 北アメリカの歴史について、あとの(1)～(4)の問いに答えなさい。

北アメリカ大陸東部の大西洋岸では、17～18世紀前半に **A** による13の植民地が成立した。18世紀中ごろ、**A** は **B** との戦争を繰り返したため、戦争の費用が財政を圧迫するようになり、これを補うため北アメリカの13植民地へも課税をすることにした。

しかし、植民地側の人々は、本国の議会に代表を送る権利を持たず、自分たちが一方的に課税されることに反発し、「**X** なくして **Y** なし」と唱え反対運動を始めた。これを、**A** が弾圧したため独立を求める動きが強くなり、1775年 **C** が始まった。

(1) 1773年、ボストン港に停泊中のイギリス東インド会社の船が襲われ、積んであった茶箱がすべて海に投げ捨てられる事件が起こりました。この事件を何といいますか。次のア～エから、一つ選び、記号で書きなさい。(3点)

- ア 義和団事件 イ 生麦事件 ウ ボストン茶会事件 エ フェートン号事件

(2) 文中の **A** と **B** にあてはまる **国名**は何ですか。正しい組み合わせを、次のア～エから一つ選び、記号で書きなさい。(3点)

	A	B
ア	フランス	イギリス
イ	イギリス	フランス
ウ	ポルトガル	イギリス
エ	スペイン	フランス

(3) 文中の **C** にあてはまる **語句**は何ですか。次のア～エから一つ選び、記号で書きなさい。(3点)

ア 名誉革命 イ 南北戦争 ウ 産業革命 エ 独立戦争

(4) 文中の **X** と **Y** にあてはまる **語句**は何ですか。それぞれ、漢字2字で書きなさい。(3点×2)

