

令和 3 年 度

一関修紅高等学校一般入学試験問題

第 3 時 限

(1月21日 11:00~11:50)

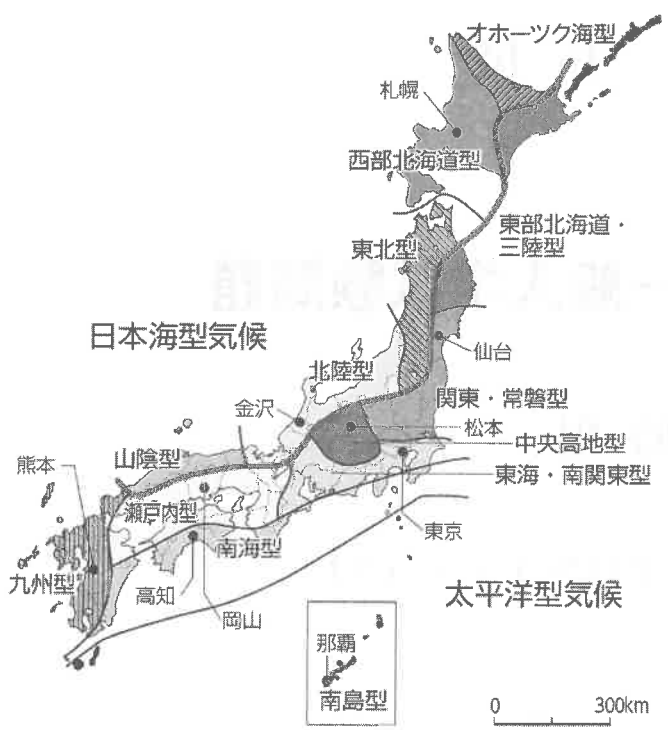
社 会

(注 意)

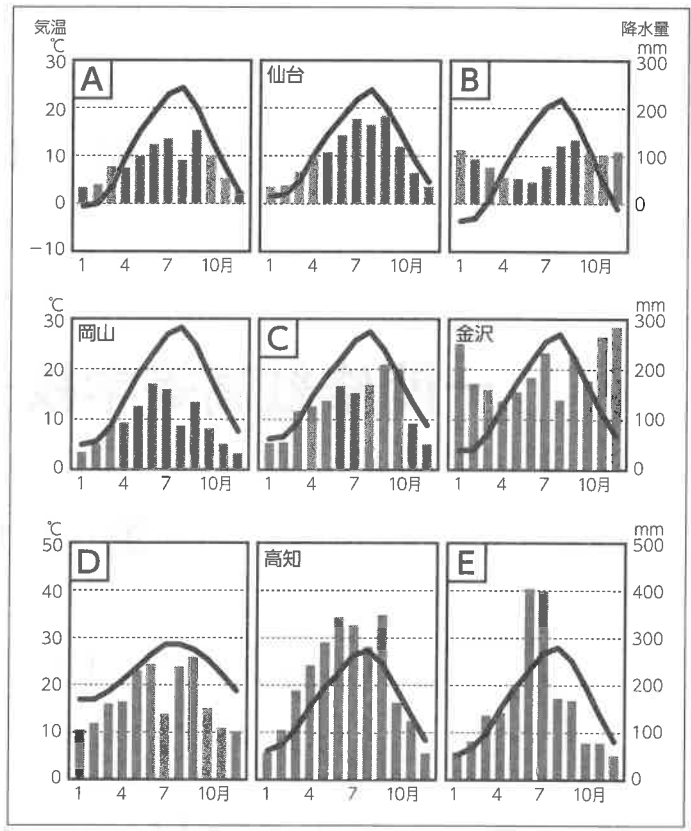
- 1 「始めなさい。」の指示があるまで、問題を見てはいけません。
- 2 答えは、必ず解答用紙の「答」の欄に記入しなさい。問題用紙に書いても無効です。
- 3 答えは、記号・数字・ことばなどで書くようになっていますから、問題をよく読んで、定められたとおりに書きなさい。
- 4 書き誤りをしたときは、きれいに消してから新しい答えを書きなさい。はっきりしない答えを書いた場合は、誤りとされます。
- 5 解答用紙の※印の欄（得点の欄）には記入してはいけません。
- 6 時間内に書き終わっても、その場に着席していなさい。
- 7 「やめなさい。」の指示があったら、直ちに書くのをやめ、筆記具を置きなさい。
- 8 問題用紙は、表紙を含めなくて7ページで、問題は7題です。

1

日本の気候区分と各地の気温と降水量のグラフについて、あとの(1)、(2)の問いに答えなさい。



日本の気象区分



日本の各都市の雨温図

(1) 日本の気候区分の図に示されている各都市の気温と降水量を表しているのが、各都市の雨温図です。次の①・②の都市について、その都市を示す雨温図はどれですか。A～Eから一つずつ選び、その記号を書きなさい。また、そのように答えた理由を、それぞれ短い文で書きなさい。

(5点×2)

- ① 札幌
- ② 那覇

(2) 日本の気候は、北海道と南西諸島など一部を除くと、大部分は温帯湿潤気候区に属します。次の①、②の問いに答えなさい。

(3点×2)

① 北海道の気候区分は何ですか。次のア～エから一つ選び、その記号を書きなさい。

- ア 寒帯気候 イ 熱帯雨林気候 ウ 砂漠気候 エ 冷帯気候

② 日本は、ユーラシア大陸の東側に位置し太平洋に面しています。冬にはシベリア側から吹き込む、乾いた冷たい風の影響を受け、夏には太平洋側から吹き込む、湿った暖かい風の影響を受けます。日本に吹き込む、季節によって風向が違ふ風を何といいますか。カタカナ五文字で書きなさい。

2

日本の社会保障制度について、あとの(1)～(3)の問いに答えなさい。

日本国憲法第25条

① すべて国民は、**A**で**B**な最低限度の**C**を営む権利を有する。

② 国は、すべての生活部面について、**D**、**E**及び**F**の向上及び増進に努めなければならない。

(1) 日本の社会保障については、憲法第25条の規定に基づいて整備されてきました。上の憲法25条の①の条文中の**A**～**C**にあてはまる語句は何ですか。正しい組み合わせを、次のア～エから一つ選び、その記号を書きなさい。(3点)

	A	B	C
ア	文化的	健康	生活
イ	生活	健康	文化的
ウ	健康	文化的	生活
エ	文化的	生活	健康

(2) 憲法25条の②の条文中の**D**～**F**にあてはまる語句は何ですか。正しい組み合わせを、次のア～エから一つ選び、その記号を書きなさい。(3点)

	D	E	F
ア	社会福祉	社会保障	公衆衛生
イ	社会保障	社会福祉	公衆衛生
ウ	社会保障	公衆衛生	社会福祉
エ	社会福祉	公衆衛生	社会保障

(3) 日本の社会保障制度は、憲法25条に基づいて整備されてきました。その社会保障制度の四つの柱は、社会保険、公的扶助、社会福祉、公衆衛生です。このうち、公的扶助とはどのような制度ですか。次の4語を使って短い文で書きなさい。(5点)

「収入」、「最低限度の生活」、「生活費」、「給付」

3

日露戦争について、あとの(1)～(6)の問いに答えなさい。

1904年2月、日本がロシアに宣戦を布告して日露戦争が始まった。日本は苦戦を重ねながらも戦いを有利に進め、㉔1905年5月の日本海海戦でロシア艦隊に勝利した。しかし、このころには日本は戦力の限界に達しており、ロシアも国内の革命運動などのために戦争の終結を必要としていた。

このような状況のもと、日本がアメリカ大統領に講和の仲立ちを求め、日本とロシアの間で講和会議が開かれた。その結果、㉕1905年9月にポーツマス条約が結ばれ、ロシアは、**A**における日本の優越権を認め、旅順・大連の租借権、長春以南の**B**と付属の利権、北緯50度以南の樺太(サハリン)を日本にゆずりわたし、沿海州・**C**半島沿岸での**D**を日本に与えることを認めた。

(1) 下線部㉔について、このときの日本艦隊の司令長官は誰ですか。次のア～エから一つ選び、その記号を書きなさい。(3点)

ア 勝海舟 イ 東郷平八郎 ウ 高橋是清 エ 陸奥宗光

(2) 下線部㉕について、この条約の「ポーツマス」は都市名です。「ポーツマス」は、どこの国の都市ですか。国名をことばで書きなさい。(3点)

(3) 文中の**A**にあてはまる国名は何ですか。次のア～エから一つ選び、その記号を書きなさい。(3点)

ア 清 イ イギリス ウ 韓国 エ ドイツ

(4) 文中の**B**にあてはまる語句は何ですか。次のア～エから一つ選び、その記号を書きなさい。(3点)

ア 林道 イ 農道 ウ 高速道 エ 鉄道

(5) 文中の**C**にあてはまる語句は何ですか。次のア～エから一つ選び、その記号を書きなさい。(3点)

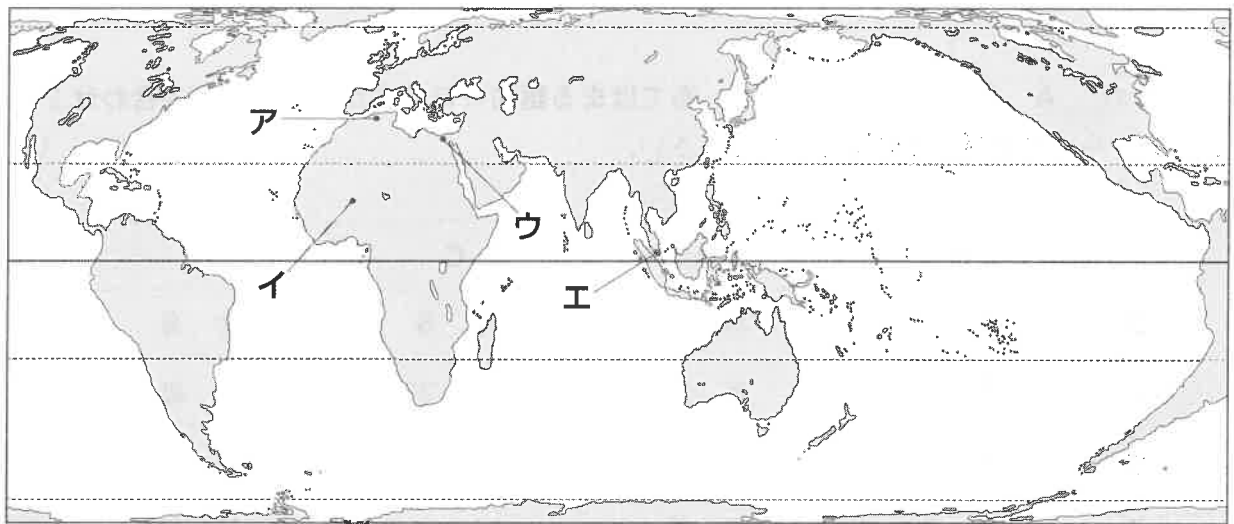
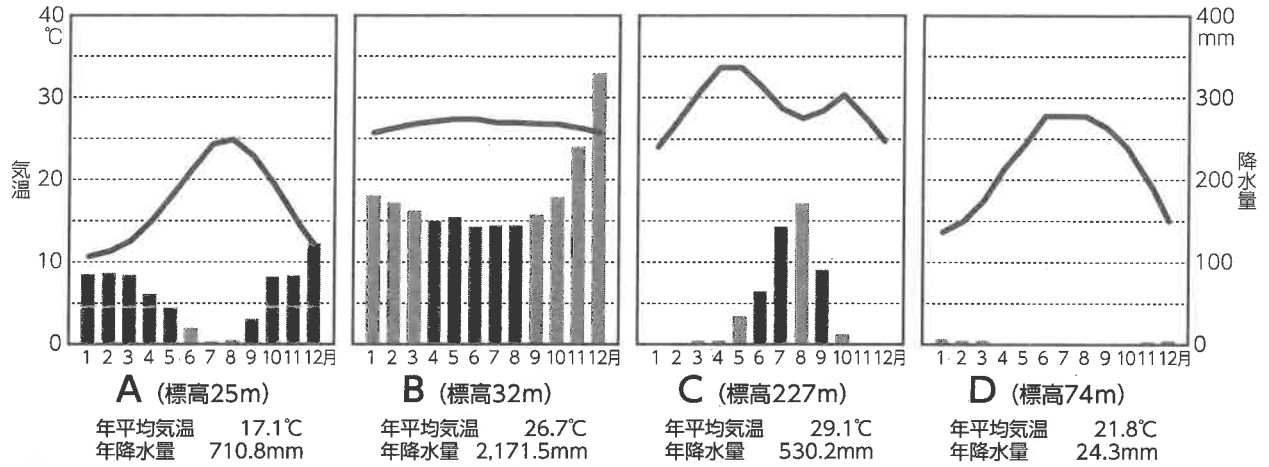
ア カムチャツカ イ アラスカ ウ スカンディナビア エ アラビア

(6) 文中の**D**にあてはまる語句は何ですか。次のア～エから一つ選び、その記号を書きなさい。(3点)

ア 領有権 イ 保有権 ウ 漁業権 エ 採掘権

4

世界各地の雨温図A～Dについて、あとの(1)、(2)の問いに答えなさい。



(1) 雨温図A～Dの示す都市はどこですか。地図中のア～エから一つずつ選び、その記号を書きなさい。(3点×4)

(2) 雨温図A～Dについて、それぞれ何という気候ですか。正しい組み合わせを、次のア～エから一つ選び、その記号を書きなさい。(3点)

	A	B	C	D
ア	西岸海洋性気候	サバナ気候	砂漠気候	ステップ気候
イ	地中海性気候	熱帯雨林気候	ステップ気候	砂漠気候
ウ	西岸海洋性気候	熱帯雨林気候	ツンドラ気候	高山気候
エ	地中海性気候	サバナ気候	ステップ気候	砂漠気候

5

裁判制度について、あとの(1)～(3)の問いに答えなさい。

A 裁判所		B 裁判所から上告された事件を あつかい 、 ③三審制で最後の段階の裁判 を行う。
下 級 裁 判 所	B 裁判所	C 裁判所や家庭裁判所などから控訴された事件などをあつかい、主に第二審の裁判を行う。
	C 裁判所	一部の事件を除く第一審と、D 裁判所から控訴された民事裁判の第二審の裁判を行う。
	家庭裁判所	家庭内の争い(家事事件)の第一審となり、また、少年事件などをあつかう。審理は原則として非公開。
	D 裁判所	請求額が140万円以下の民事裁判と、罰金以下の刑罰にあたる罪などの刑事裁判の第一審の裁判を行う。

(1) 表中の A ～ D について、あてはまる語句は何ですか。正しい組み合わせを、次のア～エから一つ選び、その記号を書きなさい。(3点)

	A	B	C	D
ア	最 高	高 等	中 等	簡 易
イ	最 上	高 級	地 方	初 級
ウ	最 上	高 等	中 等	初 級
エ	最 高	高 等	地 方	簡 易

(2) 下線部③について、三審制とはひとつの事件について、3回まで裁判を受けることができる制度です。この三審制とは何を守るための仕組みですか。次の4語を使って短い文で書きなさい。(4点)

「人権」、「裁判」、「守る」、「慎重」

(3) 裁判は、公正で中立に行われる必要があります。そのため、裁判所や裁判官も他の権力から圧力や干渉を受けないよう、国会や内閣から独立していることが重要です。このように、裁判所が国会や内閣から圧力や干渉を受けず独立していることを何といいますか。漢字三文字で書きなさい。

(3点)

6

鎌倉時代の仏教について、あとの(1)、(2)の問いに答えなさい。

宗 派	開 祖	中心寺院	教えの中心	支持層 (主な信者)
浄土宗	A	B	念仏	貴族・武士・民衆
浄土真宗	C	D	念仏	民衆・地方武士
日蓮宗 (法華宗)	E	F	題目	関東の武士・商工業者
臨済宗	G	H	座禅	貴族・幕府有力者
曹洞宗	I	J	座禅	北陸中心の地方武士

(1) 表中の A ~ J について、次の①~③の問いに答えなさい。 (3点×3)

- ① 浄土宗の開祖 A と中心寺院 B にあてはまる語句は何ですか。正しい組み合わせを、次のア~エから一つ選び、その記号を書きなさい。

	ア	イ	ウ	エ
開 祖	空 海	親 鸞	法 然	栄 西
中心寺院	永平寺	延暦寺	知恩院	本願寺

- ② 曹洞宗の開祖 I と中心寺院 J にあてはまる語句は何ですか。正しい組み合わせを、次のア~エから一つ選び、その記号を書きなさい。

	ア	イ	ウ	エ
開 祖	最 澄	道 元	空 也	鑑 真
中心寺院	中尊寺	永平寺	清浄光寺	東大寺

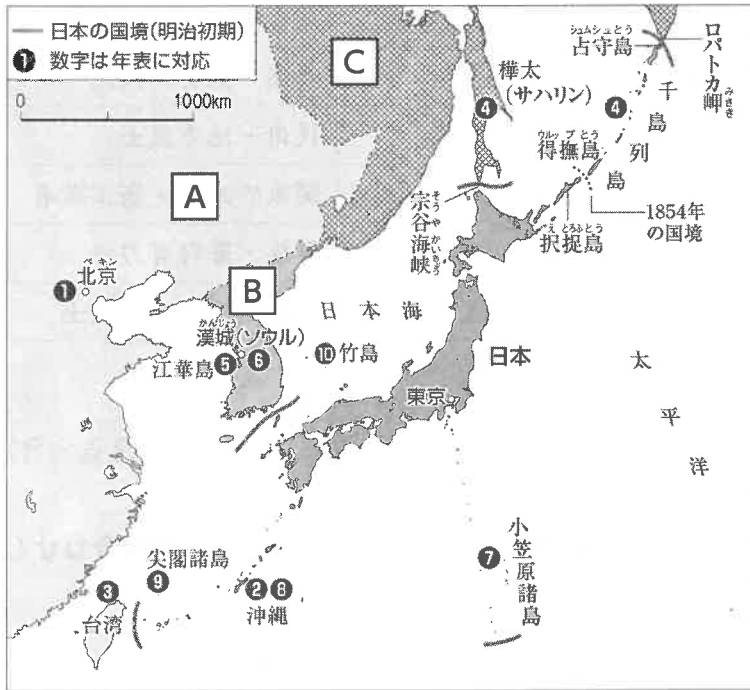
- ③ 開祖と中心寺院の組み合わせのうち、あてはまらないものはどれですか。次のア~エから一つ選び、その記号を書きなさい。

	ア	イ	ウ	エ
開 祖	親 鸞	鑑 真	栄 西	日 蓮
中心寺院	本願寺	唐招提寺	建仁寺	久遠寺

- (2) 浄土信仰の教えでは、「 X 」と念仏を唱えれば誰でも極楽浄土に生まれ変われると説きました。 X にはいる語句は何ですか。ことばで書きなさい。 (3点)

7

明治時代の国境と領土の確定について、あとの(1)～(3)の問いに答えなさい。



年	できごと
1871	X 修好条規を結ぶ①
1872	Y を置く②
1874	台湾に出兵する③
1875	樺太・千島交換条約を結ぶ④ 江華島事件が起こる⑤
1876	Z 修好条規を結ぶ⑥ 小笠原諸島の領有を宣言する⑦
1879	Y を廃止し、沖縄県を設ける⑧
1895	尖閣諸島を沖縄県に編入する⑨
1905	竹島を島根県に編入する⑩

(1) 図中の A ～ C には当時の国名が入ります。それぞれ何という国ですか。ことばで書きなさい。(3点×3)

(2) 年表中の X ～ Z にあてはまる語句は何ですか。正しい組み合わせを、次のア～エから一つ選び、その記号を書きなさい。(3点)

	X	Y	Z
ア	日清	南部藩	日朝
イ	日清	琉球藩	日朝
ウ	日朝	琉球藩	日清
エ	日朝	伊達藩	日米

(3) 明治時代に入ると日本政府は、それまであいまいだった国境を定め領土の確定を行いました。この時期に、国境を定め領土の確定を行ったのはなぜですか。次の3語を使って短い文で書きなさい。(6点)

「アジア諸国」、「欧米諸国」、「近代国家」

