

令和 5 年 度

一関修紅高等学校一般入学試験問題

第 3 時 限

(1月20日 11:00～11:50)

社 会

(注 意)

- 1 「始めなさい。」の指示があるまで、問題を見てはいけません。
- 2 答えは、必ず解答用紙の「答」の欄に記入しなさい。問題用紙に書いても無効です。
- 3 答えは、記号・数字・ことばなどで書くようになっていきますから、問題をよく読んで、定められたとおりに書きなさい。
- 4 書き誤りをしたときは、きれいに消してから新しい答えを書きなさい。はっきりしない答えを書いた場合は、誤りとされます。
- 5 解答用紙の※印の欄（得点の欄）には記入してはいけません。
- 6 時間内に書き終わっても、その場に着席していなさい。
- 7 「やめなさい。」の指示があったら、直ちに書くのをやめ、筆記具を置きなさい。
- 8 問題用紙は、表紙を含めなくて10ページで、問題は5題です。

1

図1、図2を見て(1)～(6)の問いに答えなさい。

図1

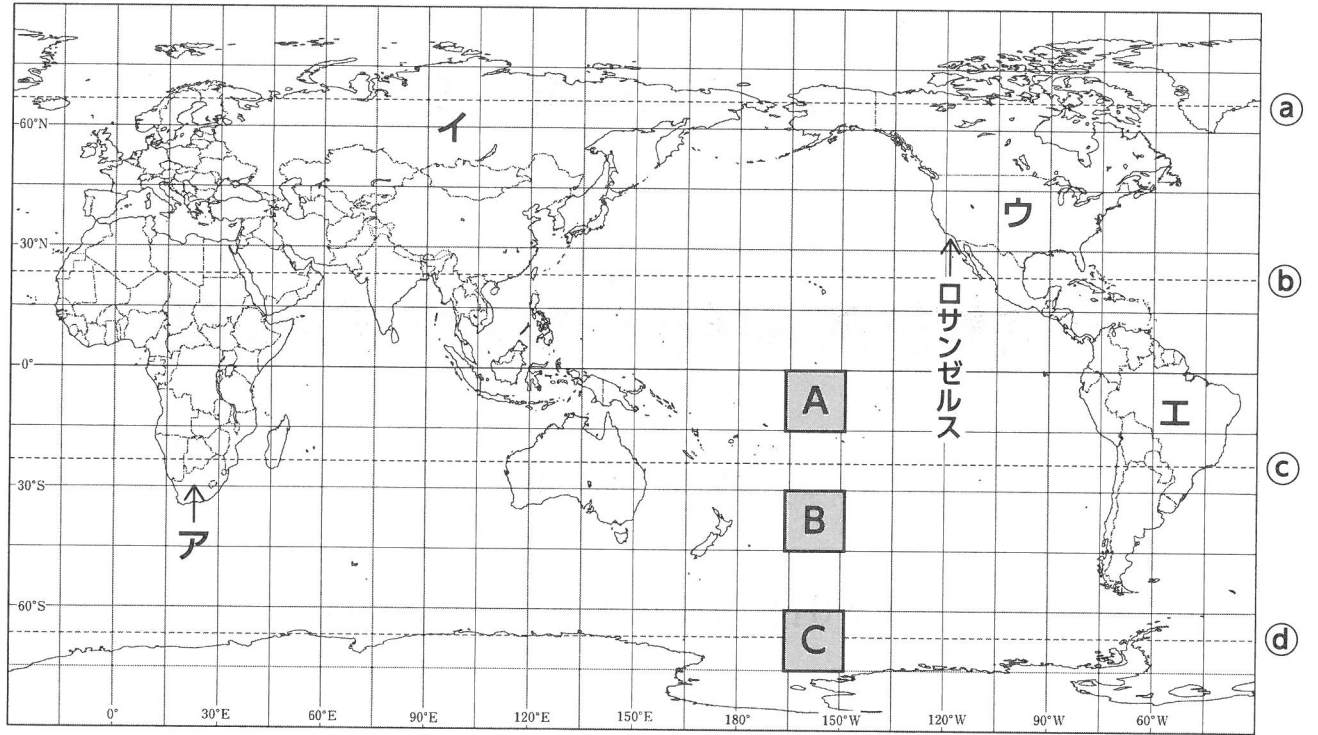


図2



(1) 図1の地図は、メルカトル図法で描かれています。図中の太線で囲まれたA～Cは、この地図上では面積が等しくなっています。実際の面積が最も広いのはどれですか。図1のA～Cから一つ選び、記号で書きなさい。(3点)

(2) ①～④の説明にあう国はどれですか。図1のア～エから一つずつ選び、記号で書きなさい。(3点×4)

① 世界有数の農産物輸出国となっている。農業の大規模化と技術開発を行い、穀物メジャーとよばれる大企業が世界市場に進出している。シリコンバレーなどには、世界有数の先端技術産業が集まり、インターネット、スマートフォンなどの分野で世界をリードしている。

② ポルトガル語を公用語としている。先住民が激減した後、奴隷としてアフリカ系の人々が連れてこられ、アジアなどからの移民も多く、多様な社会が形成されている。植民地時代には移住者がプランテーションでさとうきびや綿花、コーヒーなどの商品作物が生産された。

③ ヨーロッパとアジアにまたがる広大な国家である。東西に長い国土の中で、小麦、ライ麦などの穀物栽培が盛んである。人口は首都を中心とした西部に集中している。石油、天然ガス、石炭など鉱産資源に恵まれ、その多くがパイプラインを通じてEU諸国などに輸出されている。

④ かつては、白人の政権によって白人とそれ以外の人々を分離するアパルトヘイト（人種隔離政策）を行っていた。1991年アパルトヘイトは廃止され、1994年黒人のマンデラ大統領が当選した。金やレアメタル（マンガン・クロム）など資源に恵まれ工業化も進んでいる。

(3) 図2の地図は、東京を中心とした正距方位図法で描かれています。この図法の特徴について次の2語を使って短く説明しなさい。(5点)

「距離」 「方位」

(4) 図1の破線㉓より北を北極圏、破線㉔より南を南極圏といますが、この地域では、夏に一日中太陽がしずまない日が見られます。このことを何といいますか。ことばで書きなさい。(3点)

(5) 夏至（6月下旬ごろ）の正午に、太陽がほぼ真上に位置するのはどこですか。図1の破線㉓～㉔から一つ選び、記号で書きなさい。(3点)

(6) 岩手県出身の大谷翔平選手は、図1にあるロサンゼルスに本拠地がある、エンゼルスで活躍しています。ロサンゼルス（西経120度が標準時）で試合開始が18:00（現地時間）の時、日本（東経135度が標準時）は何時ですか。ア～エから一つ選び、記号で書きなさい。(3点)

(注)ロサンゼルスでは、サマータイムが採用されていて標準時を1時間進めている時期とします。

ア 6:00


イ 10:00

ウ 14:00

エ 22:00

2

ちはるさんは、夏休みの自由研究で、一ノ関駅前にある「大槻三賢人像（おおつきさんけんじんぞう）」について、下のカードにまとめて休み明けに発表をしました。カードを参考に(1)～(5)の問いに答えなさい。



正面の大槻玄沢（おおつき げんたく）(1757-1827) は、江戸時代後期に杉田玄白の私塾で学び、師である杉田玄白から、**㉑**オランダ語の解剖書を翻訳した **A** の改訂を命じられ『重訂 **A**』の完成に貢献した。

大槻玄沢の次男である大槻盤溪（おおつき ばんけい）(1801-1878) は、17歳で**㉒**昌平坂学問所に入寮しここで学び、幕末から明治初頭にかけて、仙台藩士、**㉓**儒学者、漢学者として活躍した。

大槻盤溪の三男である大槻文彦（おおつき ふみひこ）(1847-1928) は、開成所、**㉔**仙台藩校養賢堂（ようけんどう）で学び、大学南校を経て1872年に文部省に入省。国語辞書の編さんを命じられ、日本初の近代的国語辞書である『言海（げんかい）』を編さんした。

- (1) **A** に当てはまる解剖書の名前は何か。漢字4文字で書きなさい。 (3点)
- (2) 下線部**㉑**について、江戸時代の外交政策は「鎖国」と呼ばれています。その様子について正しいものはどれですか。ア～エから一つ選び、記号で書きなさい。 (3点)
- ア 中国・オランダとは長崎で貿易が行われた。生糸・絹織物・薬・香木などが輸入され、銀・銅・俵物などが輸出された。
- イ オランダ人との貿易は、商館のある出島で行われ、オランダ人だけは日本中どこへでも自由に行くことが許された。
- ウ オランダからの書物については、キリスト教を広めるため輸入され、全国に広まった。
- エ 幕府は商館長に、ヨーロッパやアジアの情報を報告するように義務付け海外の情報を広く庶民にも行きわたらせた。

(3) 下線部㉑について、18世紀後半、田沼意次の後に老中となった松平定信は、湯島聖堂の学問所（後の昌平坂学問所）での人材育成に努めました。また、旗本や御家人の生活苦を救うために、その借金を帳消しにしたほか、儉約令を出し、学問と武芸により武士の気風を改めようとしてきました。このことを何といいますか。ア～エから一つ選び、記号で書きなさい。（3点）

ア 享保の改革 イ 大政奉還 ウ 天保の改革 エ 寛政の改革

(4) 下線部㉒について、誤っているものはどれですか。ア～エから一つ選び、記号で書きなさい。（3点）

ア 江戸幕府は、人々を武士と百姓、町民の身分を分けて身分の上下を強めその考え方を支えるうえで儒学が大きな役割を果たした。

イ 14世紀の朝鮮半島では、李成桂（りせいけい）が、高麗を倒し、朝鮮という国を建てた。朝鮮では、独自の文字（ハングル）がつくられたほか、朱子学が発達し、後に日本の儒学に大きな影響を与えた。

ウ 女性の地位を男性よりも低くみなす男尊女卑（だんそんじょひ）の考え方についても、儒学が大きな影響力をもつことになった。

エ 立法・行政・司法の三権の分立などを主張し、儒学が近代の民主主義の基礎となった。

(5) 下線部㉓について、江戸時代には教育も広がりを見せ、各藩は藩校を設け、武士の人材育成を図りました。また、庶民の間にも教育の関心が高まりを見せ、そのために町や農村に開かれ、読み・書き・そろばんなど、**実用的な知識や技能を教えたところ**を何といいますか。漢字3文字で書きなさい。（3点）

3

さとしさんは、日本の歴史について調べました。さとしさんがまとめた表について(1)～(7)の問いに答えなさい。

区分	国づくりがはじまる／天皇や貴族が政治を行う／武士が政治を始める／武士の政治が安定する
主なきこと	<p>① 打製石器の使用が始まる</p> <p>稲作が伝わる</p> <p>② 古墳の始まり</p> <p>③ 聖徳太子が政治をとる</p> <p>④ 大化の改新が始まる</p> <p>平安京に都を移す</p> <p>大宝律令が制定される</p> <p>院政が始まる</p> <p>武士のおこり</p> <p>⑤ 源頼朝が征夷大將軍になる</p> <p>元寇</p> <p>⑥ 室町幕府の成立</p> <p>建武の新政が始まる</p> <p>⑦ 江戸幕府の成立</p> <p>関ヶ原の戦いがおこる</p> <p>豊臣秀吉が全国を統一する</p> <p>ペリーの来航</p>

(1) 表中の傍線部①について、群馬県の岩宿遺跡から打製石器が発見されたことによって、日本での存在が明らかになった時代を何といいますか。ことばで書きなさい。(3点)

(2) 表中の傍線部②について、古墳が盛んにつくられていたころ、朝鮮半島から移り住み、様々な技術を日本にもたらした人々がいました。これらの人々を何といいますか。漢字3文字で書きなさい。(3点)

(3) 表中の傍線部③について、聖徳太子は蘇我馬子とともに、天皇を中心とする政治体制を整えようとしていました。その中の一つである冠位十二階の制度では、どのようなねらいで役人を採用しようとしたか。ア～エから一つ選び、記号で書きなさい。(3点)

ア 下の者が上の者に打ち勝つ下剋上の状況も広がり、力のある家来が大名の地位を奪って独立した。

イ 一揆を防ぐため、百姓や寺社から刀・弓・やりなどの武器を取り上げ、武士が役人として活躍した。

ウ 家柄などにとらわれず、才能や功績のある人物を役人に取りたてた。

エ 国ごとに軍事・警察を担当する守護を、荘園や公領ごとに現地を管理する地頭を置き、武士が中心となった。

(4) 表中の傍線部④について、大化の改新で行われたことの説明として正しいものはどれですか。ア～エから一つ選び、記号で書きなさい。(3点)

ア 天皇の命令に従うべきことなど、役人の心構えを示した十七条の憲法を定めた。

イ 唐にならって、和同開珎を発行した。

ウ 都を平安京から平城京に移した。

エ 国家が全国の土地と人々を支配する公地公民の方針を出した。

(5) 表中の傍線部㉔について、この人物が開いた鎌倉時代の文化の説明として誤っているものはどれですか。ア～エから一つ選び、記号で書きなさい。(3点)

ア 源氏と平氏の争いの中で焼けた東大寺南大門は、宋の新しい建築様式を取り入れて再建され、運慶らが作った力強い「金剛力士像」が収められた。

イ 「浄土宗」、「日蓮宗」、「臨済宗」、「曹洞宗」など、民衆や、戦いの中を生き延びた武士の心のよりどころとして新しい仏教がおこった。

ウ 「平家物語」などの武士の戦いを描いた文学や、鎌倉での体験や民衆の姿を伝える兼好法師の随筆「徒然草」も生まれた。

エ この時期、御家人や商人の間の交際手段として流行したのが、「茶の湯」であった。千利休は、わび茶と呼ばれる芸能を完成させた。

(6) 表中の傍線部㉕について、この頃を説明した次の文中の 、 に入る人物は誰ですか。正しい組み合わせをア～エから1つ選び、記号で書きなさい。(3点)

鎌倉幕府をたおした は、天皇中心の新しい政治を始め、武士の政治を否定し、貴族を重視する政策をとった。このため武士の不満が高まり、 が武士の政治の復活を呼びかけ兵を挙げると、 の政権は2年ほどでたおれた。 は京都に新たな天皇を立てたが、 も吉野（奈良県）にのがれて正統な天皇であると主張したので、二つの朝廷が生まれ争いが続いた。

- ア X 後醍醐天皇 Y 足利尊氏 イ X 後白河天皇 Y 源頼朝
ウ X 後醍醐天皇 Y 源頼朝 エ X 後白河天皇 Y 足利尊氏

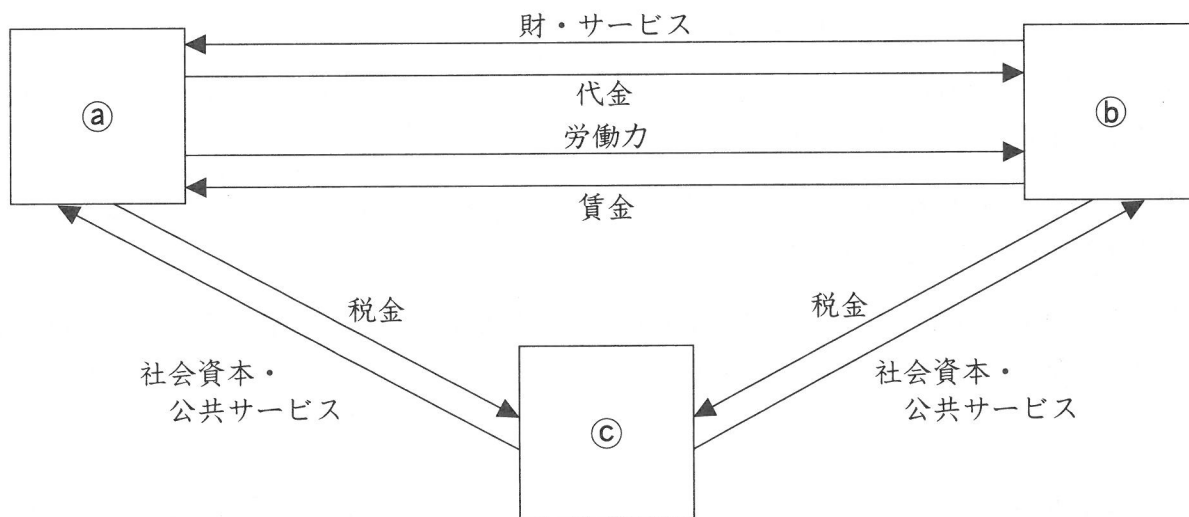
(7) 表中の傍線部㉖について、この頃を説明した次の文中の に当てはまる語句は何ですか。ことばで書きなさい。(3点)

徳川家康は初め貿易の利益のために を黙認していたが、信仰する人々が幕府の支配に抵抗することを恐れ、1612年にそれを禁止する命令を出し信仰する人々を弾圧した。

4

こうたさんは、スーパーマーケットでの職場体験を通して、経済について興味を持ちました。
 (1)～(4)の問いに答えなさい。

(1) 下の図は、経済活動における、家計、企業、政府の関係を示したものです。①～③の問いに答えなさい。



① 上の図の①～③に当てはまる語句は何ですか。正しい組み合わせを、ア～エから一つ選び、記号で書きなさい。(3点)

	①	②	③
ア	企業	家計	企業
イ	企業	政府	家計
ウ	家計	企業	政府
エ	家計	政府	企業

② 株式を発行して資金を集める会社を株式会社といいます。株式を購入した出資者が出席して、経営方針を認めたり、経営者を選出したりする**最高議決機関**を何といいますか。ことばで書きなさい。(3点)

③ こうたさんは、スーパーマーケットの入り口で、社員の求人広告を見つけました。求人広告に記されている労働条件は、ある法律に基づいています。その**法律**はどれですか。ア～エから一つ選び、記号で書きなさい。(3点)

- ア 労働組合法 イ 労働基準法 ウ 労働関係調整法 エ 消費者基本法

(2) こうたさんは、スーパーマーケットの生鮮食料品の価格が、さまざまな条件によって変化することに興味を持ちました。価格の変化について下の①～②の問いに答えなさい。

① 、 に当てはまる語句は何ですか。それぞれことばで書きなさい。(3点)

市場メカニズムがうまく機能しているときは、 量が 量よりも多いとき価格は上昇する。

② 海外から輸入される商品は、為替相場(為替レート)の影響を受けて価格が変動することがあります。、 に当てはまる語句は何ですか。正しい組み合わせを、ア～エから一つ選び、記号で書きなさい。(3点)

年 月	為替相場
2022年2月	1ドル=115円
2022年8月	1ドル=135円

(注) 2月と8月の平均値を、小数第一位を四捨五入して示した。(日本銀行HPより)

2022年の2月と8月の為替相場をくらべると、8月は2月よりもである。日本の企業が、アメリカの企業から1個の価格が5ドルの商品を輸入すると、8月は2月よりも100円輸入することになる。

ア X 円高 Y 高く イ X 円高 Y 安く
ウ X 円安 Y 高く エ X 円安 Y 安く

(3) こうたさんは、スーパーマーケットの商品の売り上げの計算や、商品の仕入れなど多くの情報をPOSシステム(販売時点情報管理)で管理して、効率よく販売していることをお店の方から説明されました。POSシステムについて、次の3語を使って短く説明しなさい。

(5点)

「バーコード」 「レジ」 「情報」

- (4) ~ に当てはまる語句は何ですか。正しい組み合わせをア～エから一つ選び、記号で書きなさい。(3点)

買い物をするときクレジットカードや を使用する人が増えてきている。

によって、訪問販売に限らず、販売者の不当な勧誘や、重要事項について事実と違うことなどを言った場合には、契約を無効にできる。また、2022年4月には、法律が改正されたため、 になると保護者の同意なくクレジットカードの契約ができるようになった。

	A	B	C
ア	電子マネー	製造物責任法	16歳
イ	電子マネー	消費者契約法	18歳
ウ	現金	クーリングオフ	20歳
エ	現金	消費者契約法	18歳

5

まさみさんのクラスでは「民主主義と政治参加」の学習のまとめとして、グループごとにテーマを選び調べることになりました。それについて(1)～(4)の問いに答えなさい。

Aグループ

テーマ 「私たちの暮らしと政治」

内容 ①地方公共団体と国は、どのように役割分担をして、仕事を進めているか調べる。

Bグループ

テーマ 「行政改革の取り組み」

内容 公務員の数を減らしたり、事業を見直したりするなどして、簡素で効率的な行政を目指す②行政改革について調べる。

Cグループ

テーマ 「地方公共団体の条例」

内容 地方議会が③法律の範囲内で独自に制定できる条例について、全国の事例を調べる。

Dグループ

テーマ 「私たちの政治と民主主義」

内容 住民が直接、政治に参加できる④直接請求権などについて調べる。

(1) 下線部①について、地方公共団体が担っている業務として誤っているものはどれですか。ア～エから一つ選び、記号で書きなさい。(3点)

- ア 外国からの攻撃に対する防衛
- イ ゴミの収集
- ウ 上下水道の整備
- エ 保育所などの子育て支援

(2) 下線部②について、政府は次のような取り組みをしています。そのことを何といいますか。ことばで書きなさい。(3点)

一定の条件のもと、かぜ薬をコンビニエンスストアで販売することや、以前は資格を持った人しか給油できなかったガソリンスタンドが、セルフ式で給油可能になった。

(3) 下線部③について、国会における法律の制定や改正の手続きとして正しいものはどれですか。ア～エから一つ選び、記号で書きなさい。(3点)

- ア 本会議で議決される前に、通常、与党と野党の議員からなる委員会で審査される。
- イ 衆議院と参議院で異なった議決をし、両院協議会でも不一致のときは、参議院の議決を優先する。
- ウ 提出された議案は、参議院から先に審議が行われる。
- エ 議案の議決は、衆議院・参議院ともに出席議員の3分の2が賛成すれば可決される。

(4) 下線部④について、地方公共団体では、住民が条例の制定を直接請求することができます。町の有権者数が10000人の場合、条例の制定を直接請求するには、住民の署名は何人以上必要になりますか。数字で書きなさい。(3点)